

## Pravila za računanje odvodov funkcij

Če sta  $f$  in  $g$  odvedljivi funkciji, potem velja

- $(f + g)'(x) = f'(x) + g'(x)$
- $(\alpha f)'(x) = \alpha f'(x)$
- $(fg)'(x) = f'(x)g(x) + f(x)g'(x)$
- $\left(\frac{f(x)}{g(x)}\right)' = \frac{f'(x)g(x) - f(x)g'(x)}{(g(x))^2}$ , kjer  $g(x) \neq 0$
- $(f(g(x)))' = f'(g(x))g'(x)$  (**posredno odvajanje**)

Tudi vse te formule sledijo iz definicije odvoda:

$$f'(x) = \lim_{h \rightarrow 0} \frac{f(x+h) - f(x)}{h}$$

1 / 15

## Posredno odvajanje

- Formula za posredno odvajanje je še posebej pomembna in jo zelo pogosto uporabljamo. Formulo lahko ponazorimo 'grafično':

$$\left(f\left(\boxed{\phantom{x}}\right)\right)' = f'\left(\boxed{\phantom{x}}\right) \cdot \boxed{\phantom{x}}'$$

- Primer: Izračunati želimo odvod funkcije  $f(x) = \sin(\ln x)$ .

$$\left(\sin\left(\boxed{\ln x}\right)\right)' = \cos\left(\boxed{\ln x}\right) \cdot \boxed{\ln x}' = \cos(\ln x) \cdot \frac{1}{x} = \frac{\cos(\ln x)}{x}$$

## Primer

- Izračunajmo  $(a^x)'$ , če vemo, da je  $(e^x)' = e^x$ ?
  - $a^x = e^{\ln a^x} = e^{x \ln a}$
  - $(a^x)' = (e^{x \ln a})' = e^{x \ln a} \ln a = a^x \ln a$
- Izračunajmo  $(\log_a x)'$ , če vemo, da je  $(\ln x)' = \frac{1}{x}$ ?
  - $\log_a x = \frac{\ln x}{\ln a}$
  - $(\log_a x)' = \left(\frac{\ln x}{\ln a}\right)' = \frac{(\ln x)'}{\ln a} = \frac{1}{x \ln a}$

2 / 15

## Primeri

Izračunajmo odvode:

1  $f(x) = \sqrt{x}$

$$(\sqrt{x})' = (x^{\frac{1}{2}})' = \frac{1}{2}x^{-\frac{1}{2}} = \frac{1}{2}(\sqrt{x})^{-1} = \frac{1}{2\sqrt{x}}$$

2  $f(x) = \sqrt{x^2 - 1}$

$$\begin{aligned}(\sqrt{x^2 - 1})' &= ((x^2 - 1)^{\frac{1}{2}})' = \frac{1}{2}(x^2 - 1)^{-\frac{1}{2}} \cdot (x^2 - 1)' = \frac{1}{2}(\sqrt{x^2 - 1})^{-1} \cdot (2x) = \\ &= \frac{2x}{2\sqrt{x^2 - 1}} = \frac{x}{\sqrt{x^2 - 1}}\end{aligned}$$

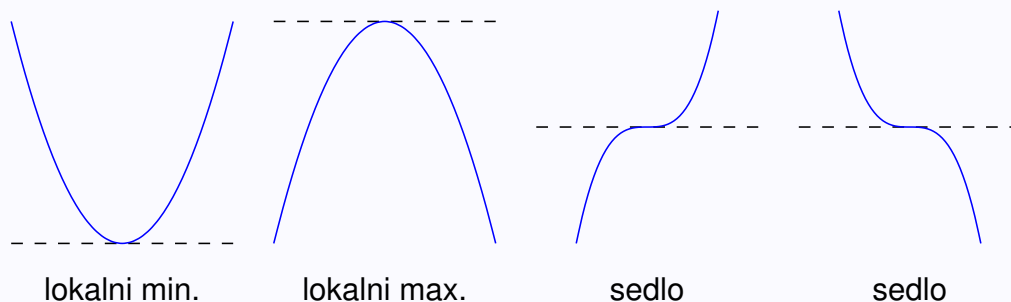
## Uporaba odvoda

S pomočjo odvoda določimo **naraščanje** in **padanje** funkcij ter **ekstreme** in **stacionarne točke**.

- Če je  $f'(x_0) > 0$ , je  $f$  v točki  $x_0$  naraščajoča.
- Če je  $f'(x_0) < 0$ , je  $f$  v točki  $x_0$  padajoča.
- Če je  $f'(x_0) = 0$ , ima  $f$  v točki  $x_0$  **stacionarno** točko: **minimum**, **maksimum** ali **prevoj** (sedlo). V stacionarni točki je tangenta na graf vodoravna.

3 / 15

## Primeri stacionarnih točk



## Višji odvodi

Funkcije lahko odvajamo tudi večkrat.

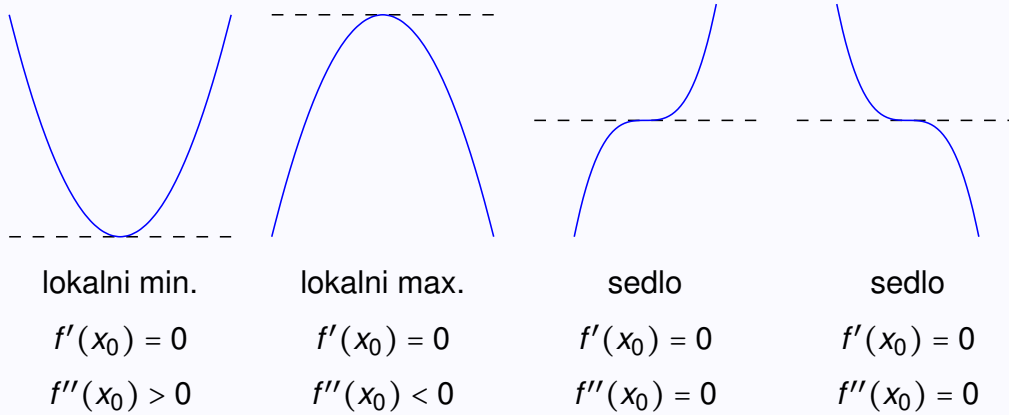
- Če odvod funkcije  $f'$  še enkrat odvajamo, dobimo **drugi odvod** funkcije

$$f''(x) = (f')'(x).$$

- Če je  $f'(x_0) = 0$  in  $f''(x_0) > 0$ , potem je v  $x_0$  lokalni minimum.
- Če je  $f'(x_0) = 0$  in  $f''(x_0) < 0$ , potem je v  $x_0$  lokalni maksimum.
- Če je  $f'(x_0) = 0$  in  $f''(x_0) = 0$ , potem iz teh podatkov še ne znamo ugotoviti ali je v  $x_0$  minimum, maksimum ali sedlo. Če je  $f'''(x_0) \neq 0$  potem je v  $x_0$  sedlo. Če pa je tudi  $f'''(x_0) = 0$ , moramo obravnavati še višje odvode. Sklepamo pa podobno kot pri zgornji uporabi prvega in drugega odvoda, le da uporabimo 'lihi' namesto 'prvi' in 'sodi' namesto 'drugi' odvod.

4 / 15

### Primeri stacionarnih točk - ponovno

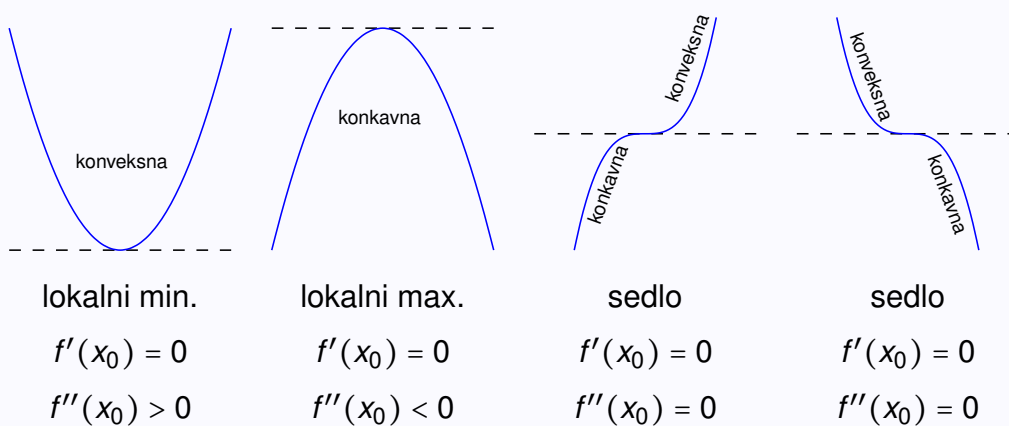


### Uporaba odvodov za risanje grafov

- Prvi odvod nam pove, kje funkcija narašča, kje pada in kje so stacionarne točke,
- Drugi odvod pove, kako se graf krivi:
  - kjer je  $f''(x) \geq 0$ , je  $f$  **konveksna**, graf funkcije  $f$  leži nad tangento grafa,
  - če je  $f''(x) \leq 0$ , je  $f$  **konkavna**, graf funkcije  $f$  leži pod tangento grafa.

5 / 15


### Uporaba odvodov za risanje grafov - primeri



6 / 15

### Primer uporabe odvoda

Ob ravnem zidu želimo z 10 metrov dolgo ograjo zagraditi pravokoten prostor (kot kaže slika). Kakšen pravokotnik naj zagradimo, da bo ploščina ograjenega prostora največja?



- Z  $x$  označimo širino in z  $y$  višino ograjenega prostora.
- Potrebujemo  $2y + x = 10$  metrov ograje. Torej  $y = 5 - \frac{x}{2}$ .

- Površina je  $P = x \cdot y$ . Torej  $P(x) = x \cdot (5 - \frac{x}{2}) = 5x - \frac{1}{2}x^2$ .
- Ekstrem bo dosežen pri  $P'(x) = 5 - x = 0$ . Torej  $x = 5$  in  $y = 2.5$ .
- Rešitev je pravokotnik dimenzij  $5 \times 2.5$ .

7 / 15

### Primer

Raziščimo stacionarne točke funkcije  $f(x) = x^3 - 3x + 2$ .

- Izračunamo  $f'(x) = 3x^2 - 3 = 0 \implies x_1 = 1$  in  $x_2 = -1$ .
- $f''(x) = 6x \implies f''(1) > 0$  in  $f''(-1) < 0$ .
- $(1, 0)$  je **minimum**.  $(-1, 4)$  je **maksimum**.

### Primer

Kakšne oblike naj bo valjasta pločevinka s prostornino 1l, da bomo za izdelavo porabili najmanj pločevine?

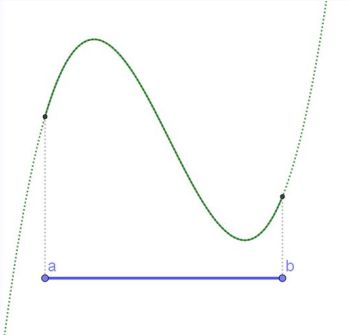
- Če ima pločevinka premer  $2r$  in višino  $v$  je njena prostornina  $\pi r^2 v$ . Ker 1 liter ustreza  $1 \text{ dm}^3$ , vzamemo za enoto decimeter. Torej  $\pi r^2 v = 1$  in izrazimo  $v = \frac{1}{\pi r^2}$ .
- Površina je podana s formulo  $S = 2\pi r^2 + 2\pi r v$ . Torej  $S(r) = 2\pi r^2 + \frac{2\pi r}{\pi r^2} = 2\pi r^2 + \frac{2}{r}$ .
- $S'(r) = 4\pi r - \frac{2}{r^2} = 0 \implies r = \frac{1}{\sqrt[3]{2\pi}} \approx 0.54$ .
- $v = \frac{1}{\pi r^2} = \frac{\sqrt[3]{(2\pi)^2}}{\pi} = \sqrt[3]{\frac{4}{\pi}} \approx 1.08$
- Pločevinka bo torej imela premer in višino oboje enako  $\sqrt[3]{\frac{4}{\pi}}$  dm, kar je 10.8 cm.

8 / 15

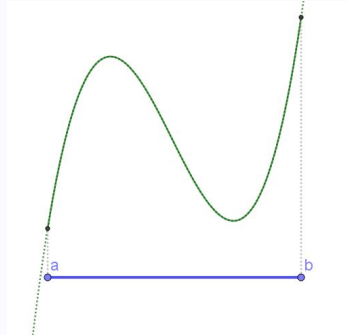
## Globalni ekstremi

Odvedljiva funkcija doseže na zaprtem intervalu  $[a, b]$  svoj maksimum in minimum

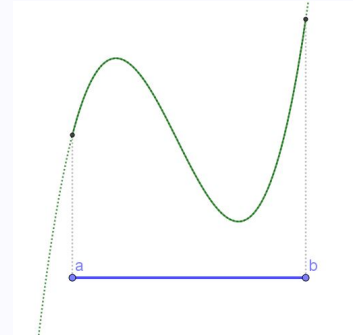
- v stacionarni točki ali
- na robu intervala



globalna ekstrema v stacionarnih točkah



globalna ekstrema na robu



globalni max. na robu

globalni min. v stacionarni točki

9 / 15

## Nekaj nalog za samostojno delo

- 1 Za funkcijo  $f(x) = x^4 - x^2$  določite ničle, intervale naraščanja in padanja, ekstreme, intervale konveksnosti in konkavnosti ter čimbolj natančno narišite graf.
- 2 Kolikšni sta najmanjša in največja vrednost funkcije  $f(x) = x^3 - 3x + 2$  na intervalu  $[0, 2]$ ?
- 3 Kmet želi ograditi pašnik s štirimi prekati (kot kaže slika). Na razpolago ima 6 000m ograje. Kakšna naj bo ograjena površina, da bo površina pašnika največja?

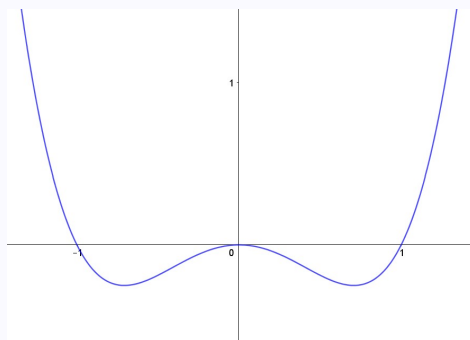
--	--	--	--

10 / 15

### Naloga 1.

- $f(x) = x^4 - x^2 = x^2(x-1)(x+1)$
- $f'(x) = 4x^3 - 2x = 2x(\sqrt{2}x-1)(\sqrt{2}x+1)$
- $f''(x) = 12x^2 - 2$

- Ničle: 0 (2.st), 1 (1.st), -1 (1.st)
- Stacionarne točke:  $(0, 0)$  max,  $(\frac{1}{\sqrt{2}}, -\frac{1}{4})$  min,  $(-\frac{1}{\sqrt{2}}, -\frac{1}{4})$  min
- Pada:  $(-\infty, -\frac{1}{\sqrt{2}}) \cup (0, \frac{1}{\sqrt{2}})$ ; Narašča:  $(-\frac{1}{\sqrt{2}}, 0) \cup (\frac{1}{\sqrt{2}}, \infty)$
- Konveksna:  $(-\infty, -\frac{1}{\sqrt{6}}) \cup (\frac{1}{\sqrt{6}}, \infty)$ ; Konkavna:  $(-\frac{1}{\sqrt{6}}, \frac{1}{\sqrt{6}})$

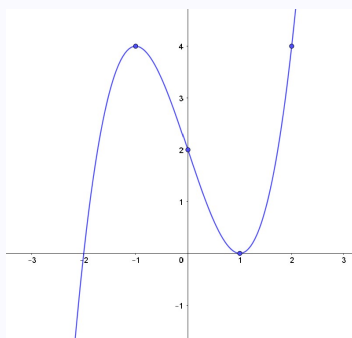


11 / 15

### Naloga 2.

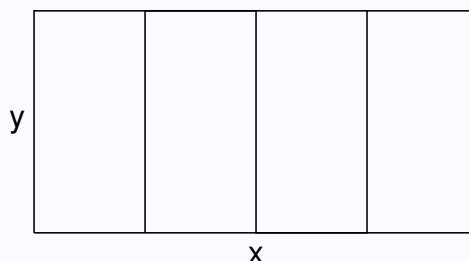
- $f(x) = x^3 - 3x + 2$
- $f'(x) = 3x^2 - 3 = 3(x-1)(x+1)$
- $f''(x) = 6x$

- Stacionarne točke:  $(1, 0)$  min,  $(-1, 4)$  max
- Na robovih  $[0, 2]$ :  $f(0) = 2$  in  $f(2) = 4$
- Na  $[0, 2]$  funkcija zavzame minimalno vrednost 0 in maksimalno vrednost 4.



12 / 15

### Naloga 3.



- 6 000 m = 6 km;
- Ograja:  $2x + 5y = 6 \implies y = \frac{6}{5} - \frac{2}{5}x$
- Površina:  $P(x) = x \cdot y = x \cdot (\frac{6}{5} - \frac{2}{5}x) = \frac{6x}{5} - \frac{2x^2}{5}$
- $P'(x) = \frac{6}{5} - \frac{4x}{5} = 0 \implies x = \frac{3}{2} = 1.5$  in  $y = \frac{3}{5} = 0.6$

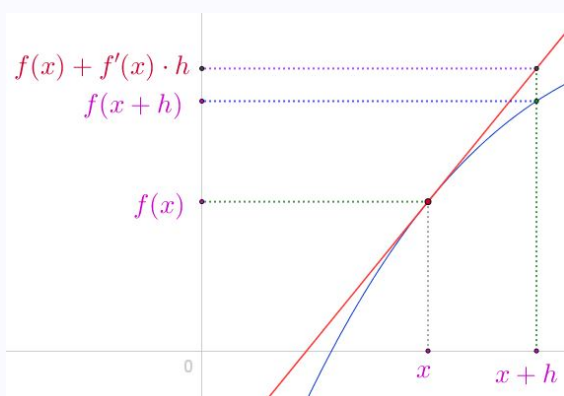
13 / 15

### Približek z diferencialom

- Odvod funkcije  $f$  zapišemo tudi:  $f' = \frac{dy}{dx}$  oziroma  $dy = f' dx$ . Pri tem ima 'dx' pomen 'majhne spremembe' ali diferenciala  $x$ -a, 'dy' pa 'majhne spremembe'  $y$ -a. Ker z  $y$  označujemo funkcijske vrednosti, lahko zapišemo tudi  $df = f' dx$ .
- Tangenta v  $x_0$ :  $y = f(x_0) + f'(x_0)(x - x_0)$ .
- Tangenta se blizu  $x_0$  dobro prilega grafu  $f$ . Uporabimo jo za približke bližnjih vrednosti funkcije. **Pomembno je razumeti geometrijski pomen**  
 $f(x_0 + h) \simeq f(x_0) + f'(x_0)h$ , oziroma

$$f(x + h) \simeq f(x) + f'(x)h$$

### Geometrijski pomen diferenciala



- Velja  $f(x + h) - f(x) \simeq f'(x)h$ . Manjši kot je  $h$  boljši je približek.
- $df = f' dx$  velja natančno, ker je  $h = dx$  infinitezimalno majhen.

Dinamična vizualizacija na <https://ggbm.at/udtmjs5p> v <https://www.geogebra.org/m/veaekmg5>

14 / 15

### Primeri

- S pomočjo diferenciala približno izračunajmo  $\sqrt{0.98}$ .

Za  $f(x) = \sqrt{x}$  bi radi približno izračunali  $f(0.98)$ .

Ker je  $f'(x) = \frac{1}{2\sqrt{x}}$ , velja

$$f(0.98) = f(1 - 0.02) \doteq f(1) + f'(1)(-0.02) = 1 - \frac{0.02}{2} = 1 - 0.01 = 0.99.$$

Napaka, ki smo jo pri tem računu naredili je manjša od 0.0001.

- S pomočjo diferenciala približno izračunajmo  $\sin(2^\circ)$ .

Za  $f(x) = \sin x$  bi radi približno izračunali  $f(\frac{2\pi}{180})$ .

(Ne pozabimo, da moramo računati v radianih.)

Ker je  $f'(x) = \cos x$ , velja

$$f(\frac{2\pi}{180}) = f(0 + \frac{\pi}{90}) \doteq f(0) + f'(0)\frac{\pi}{90} = 0 + 1 \cdot \frac{\pi}{90} = \frac{\pi}{90} = 0.03490.$$

Napaka, ki smo jo pri tem računu naredili je manjša od 0.000001.